

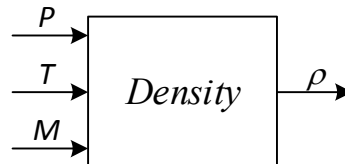
Практика 12. Модель клапана

Важно.

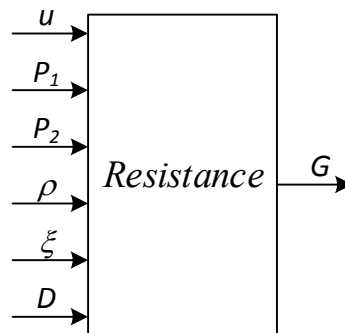
При разработке моделей использовать все параметры в единицах СИ. Если для удобства исходные данные в задании даны в других единицах, перед их использованием в модели **обязательно** перевести в СИ. При нарушении данного требования задание не принимается.

Часть 1. Модель клапана с приводом

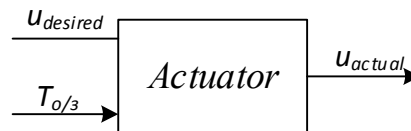
1. Реализовать формулу расчета плотности идеального газа по его давлению и температуре (Simulink/User-Defined Function/MATLAB Function)



2. Реализовать формулу Вейсбаха для гидравлического расчета местного сопротивления.

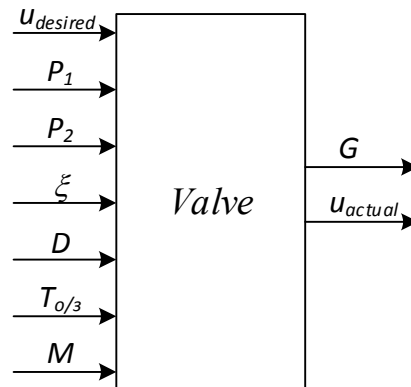


3. Реализовать модель привода штока клапана с линейным перемещением во времени (Simulink/Discontinuous/Rate Limiter).



Рекомендуется использовать команду Create Subsystem from Selection в редакторе модели.

4. Реализовать модель клапана за счет соединения друг с другом **всех** разработанных блоков.



Рекомендуется использовать команду Create Subsystem from Selection в редакторе модели.

5. Задать все параметры модели константами и проверить корректность ее работы в интерактивном режиме. Для давления задать $P_1 = 1.1$ МПа, $P_2 = 1.0$ МПа. Подобрать такое гидравлическое сопротивление клапана, чтобы при 50% его открытия расход составлял 100 кг/сек.

- a. Вывести значения G, u_{actual} на график (Simulink/Sinks/Scope) и в окно вывода текущего значения (Simulink/Sinks/Display).
- b. При некорректной работе модели локализовать блок, работающий неверно. Для этого полезно вывести соответствующие графики или текущие значения параметров.

Часть 2. Генератор возмущения

1. Создать генератор детерминированной составляющей (Simulink/Sources/Pulse Generator и/или Sine Wave). Период сигнала взять равным $10T_{0/3}$. Амплитуда 0.5 МПа.
2. Создать три генератора розового шума на основе подхода из предыдущей практики (с использованием апериодического звена). Постоянные времени звеньев взять соответственно $0.1T_{0/3}, T_{0/3}, 10T_{0/3}$. СКО шума задать 0.3 МПа (не путать с дисперсией!).
3. Сформировать сигнал возмущения P_2 равный сумме
 - a. постоянной составляющей 1.0 МПа,
 - b. переменной детерминированной составляющей с периодическим сигналом
 - c. переменной случайной составляющей.

В качестве случайной составляющей поочередно задействовать один из трех сигналов розового шума. Для удобства переключения между тремя сигналами используйте блок Simulink/Signal Routing/Manual Switch. Для переключения 3-х сигналов таких блоков понадобится два.

4. Запустить моделирование и в условиях наличия возмущений осуществить ручное управление клапаном поочередно для трех различных видов шума.

Вопросы

В подготовке